



365. Ознака приказана на слици („Саобраћајна површина за посебне намене“) означава:



а) место резервисано за паркирање аутобуса и заустављање других возила,
 б) место резервисано за аутобуско стајалиште,
 в) место резервисано за такси возила или друга возила.

2

368. Ознака приказана на слици („Паркинг место“) означава:



а) место за подужно паркирање,
 б) место за управно паркирање,
 в) место за паркирање под било којим углом.

2

366. Ознака приказана на слици („Саобраћајна површина за посебне намене“) означава:



а) место резервисано за паркирање такси возила и заустављање осталих возила,
 б) место резервисано за паркирање возила јавног градског превоза путника,
 в) место резервисано за такси возила.

2

369. Ознака приказана на слици означава:



а) место за паркирање,
 б) место где је забрањено заустављање и паркирање,
 в) аутобуско стајалиште.

2

370. Ознака приказана на слици („Паркинг место“) означава:



а) место за подужно паркирање,
 б) место за управно паркирање,
 в) место за косо паркирање.

2

367. Ознака приказана на слици означава:



а) место за паркирање,
 б) место где је забрањено заустављање и паркирање,
 в) аутобуско стајалиште.

2

371. Ознака приказана на слици означава:



а) место за паркирање,
 б) место где је забрањено заустављање и паркирање,
 в) аутобуско стајалиште.

2



372. Ознака приказана на слици („Паркинг место“) означава:



а) место за подужно паркирање,
 б) место за управно паркирање,
 в) место за косо паркирање.

2

377. Неиспрекидана линија заустављања, постављена испред светлосног саобраћајног знака, означава:

а) место на коловозу непосредно пре кога возач мора да заустави возило,
 б) место на коловозу непосредно пре кога возач мора да заустави возило, само ако му је светлосним саобраћајним знаком забрањен пролаз,
 в) место на коловозу непосредно пре кога возач мора да заустави возило, само када је постављен и саобраћајни знак „Обавезно заустављање“.

2

373. Ознака приказана на слици означава:



а) сталну препреку унутар габарита слободног профила пута,
 б) вертикалну запреку,
 в) запречну траку.

2


378. У ситуацији приказаној на слици:



а) морате се зауставити непосредно пре линије заустављања,
 б) морате се зауставити на линији прегледности,
 в) можете проћи без заустављања.

2


374. У ситуацији приказаној на слици, ивична линија је означена бројем:



а) 1 и 2, в) 2 и 4,
 б) 2 и 3, г) 3 и 4.

2

379. У ситуацији приказаној на слици:



а) дужни сте да се зауставите непосредно пре линије заустављања,
 б) дужни сте да се зауставите на линији прегледности,
 в) можете проћи раскрсницу без заустављања.

2

375. Уздужна линија која се користи за најављивање близине неиспрекидане линије је:

а) разделна линија,
 б) ивична линија,
 в) линија упозорења.

2

376. Линија заустављања, косници, граничници, пешачки прелази и прелази бициклитичке стазе преко коловоза су:

а) уздужне ознаке на коловозу,
 б) попречне ознаке на коловозу,
 в) остале ознаке на коловозу.

2

Auto škola Pavlin
 Škola koju ćete sigurno završiti



380.	Неиспрекидана линија заустављања, постављена на прилазу раскрсници са путем са првенством пролаза на месту где не постоји саобраћајни знак „Обавезно заустављање“, означава:	
	<ul style="list-style-type: none"> а) место на коловозу непосредно пре кога возач мора да заустави возило, б) место на коловозу непосредно пре кога возач мора да заустави возило, само ако је испред те линије исписана реч „STOP“, в) место на коловозу на коме је возач дужан да заустави возило само када се путем са првенством пролаза крећу возила којима мора да уступи првенство пролаза. 	2

381.	Неиспрекидана линија заустављања, постављена испред саобраћајног знака „Обавезно заустављање“, означава:	
	<ul style="list-style-type: none"> а) место на коловозу непосредно пре кога возач мора да заустави возило, б) место на коловозу непосредно пре кога возач мора да заустави возило, само ако му то место омогућава прегледност саобраћајне ситуације на путу са првенством пролаза, в) место на коловозу на коме је возач дужан да заустави возило само када се путем са првенством пролаза крећу возила којима мора да уступи првенство пролаза. 	2

382.	У ситуацији приказаној на слици:	
		
	<ul style="list-style-type: none"> а) можете се зауставити пре линије заустављања или на линији прегледности, б) дужни сте да се зауставите непосредно пре линије заустављања, в) дужни сте да се зауставите на линији прегледности. 	2

383.	Неиспрекидана линија заустављања, постављена испред знака „Забрана пролаза без заустављања“ који означава близину царинарнице, полиције или наплатног места за путарину, означава место непосредно пре кога возач мора да:	
	<ul style="list-style-type: none"> а) заустави возило пре линије заустављања, само ако му овлашћено лице даје одговарајући знак, б) заустави возило само ако је пролаз онемогућен одговарајућим запречним средством (покретном рампом), в) заустави возило. 	2

384.	У ситуацији приказаној на слици:	
		
	<ul style="list-style-type: none"> а) се морате зауставити непосредно пре линије заустављања, б) се морате зауставити непосредно испред запречног средства (покретне рампе), в) се можете зауставити непосредно пре линије заустављања или испред запречног средства (покретне рампе). 	2

385.	У ситуацији приказаној на слици:	
		
	<ul style="list-style-type: none"> а) се не морате зауставити јер друго возило долази са Ваше леве стране, б) се морате зауставити непосредно пре непрекидане линије заустављања да би пропустили друго возило, в) можете се зауставити на било којем месту да би пропустили друго возило. 	2

386.	Семафори се користе за: (Заокружити два тачна одговора)	
	<ul style="list-style-type: none"> а) регулисање саобраћаја, б) означавање радова и препрека на путу, в) давање обавештења, г) означавање возила, д) давање знакова са измењивим садржајем порука. 	3

387.	Уређаји за давање светлосних саобраћајних знакова су:	
	<ul style="list-style-type: none"> а) светлосне ознаке на путу, б) знакови са изменљивим садржајем порука, в) семафори. 	3

Auto škola Pavlin
Škola koju ćete sigurno završiti





Забрањено је коришћење, односно повремено или стално умножавање базе података испитних питања или њених делова, било којим средствима и у било којој форми, у **комерцијалне сврхе**

388. Попречна ознака на коловозу приказана на слици („Косник“) означава:



а) део површине коловоза намењен за заустављање и паркирање возила,
 б) место отварања саобраћајне траке,
 в) место затварања саобраћајне траке.

2

389. Попречна ознака на коловозу приказана на слици („Косник“) означава:



а) део површине коловоза намењен за заустављање и паркирање возила,
 б) место затварања саобраћајне траке резервисане за возила јавног превоза путника,
 в) место отварања саобраћајне траке резервисане за возила јавног превоза путника.

2

390. Ознаке на коловозу („Стрелице“) служе за:



а) означавање обавезног смера, односно смерова, кретања возила,
 б) обавештавање возача о намени саобраћајне траке,
 в) означавање скретања саобраћаја.

2

391. Светлосни саобраћајни знак – црвено светло који даје семафор има значење:

а) забрањен пролаз,
 б) забрањен пролаз, осим у случају када се возило не може безбедно зауставити испред наведеног знака,
 в) дозвољен пролаз уз обавезу за све учеснике у саобраћају да се крећу уз повећану опрезност.

3

392. Ознака на коловозу приказана на слици („Стрелице“) служи за:



а) означавање смера кретања у гаражама,
 б) најављивање близине неиспрекидане линије,
 в) скретање саобраћаја.

2

393. Ознака на коловозу приказана на слици („Поља за усмеравање саобраћаја“) означава:



а) површину на којој је забрањен саобраћај и на којој није дозвољено заустављање и паркирање,
 б) површину на којој је дозвољен саобраћај, а на којој није дозвољено заустављање и паркирање,
 в) површину на којој је забрањен саобраћај, а на којој је дозвољено заустављање и паркирање.

2

394. Светлосни саобраћајни знак – зелено светло који даје семафор има значење:

а) забрањен пролаз,
 б) дозвољен пролаз,
 в) обавезу за све учеснике у саобраћају да се крећу уз повећану опрезност.

3

395. Светлосни саобраћајни знак – истовремено укључено црвено и жуто светло који даје семафор има значење:

а) дозвољен пролаз уз обавезу за све учеснике у саобраћају да се крећу уз повећану опрезност,
 б) забрањен пролаз и наговештај да ће се укључити зелено светло,
 в) дозвољен пролаз и наговештај да ће се ускоро укључити црвено светло.

3

396. Светлосни саобраћајни знак – истовремено укључено црвено и жуто светло са симболом једне или више стрелица, које даје семафор, има значење:

а) дозвољен пролаз у смеру означеном стрелицом, односно смеровима означеним стрелицама, уз обавезу за све учеснике у саобраћају да се крећу уз повећану опрезност,
 б) забрањен пролаз у смеру означеном стрелицом, односно смеровима означеним стрелицама и наговештај да ће се укључити зелено светло,
 в) дозвољен пролаз у смеру означеном стрелицом, односно смеровима означеним стрелицама и наговештај да ће се ускоро укључити црвено светло.

3





397. Светлосни саобраћајни знак приказан на слици има значење:



- a) забрањен пролаз,
- b) дозвољен пролаз,
- v) обавезу за све учеснике у саобраћају да се крећу уз повећану опрезност.

3

400. Светлосни саобраћајни знак приказан на слици има значење:



- a) забрањен пролаз,
- b) забрањен пролаз, осим у случају када се возило не може безбедно зауставити испред наведеног знака,
- v) дозвољен пролаз уз обавезу за све учеснике у саобраћају да се крећу уз повећану опрезност.

3

398. Светлосни саобраћајни знак приказан на слици, значи да Вам је:



- a) дозвољен пролаз и наговештај да ће се ускоро укључити црвено светло,
- b) дозвољен пролаз,
- v) забрањен пролаз, осим у случају када се возило не може безбедно зауставити испред наведеног знака.

3

401. Светлосни саобраћајни знак приказан на слици означава да Вам је:



- a) забрањен пролаз и наговештај да ће се укључити зелено светло,
- b) дозвољен пролаз уз обавезу да се крећете уз повећану опрезност,
- v) дозвољен пролаз и наговештај да ће се ускоро укључити црвено светло.

3

399. Светлосни саобраћајни знак – трепћуће зелено светло са симболом једне или више стрелица, које даје семафор, има значење:

- a) дозвољен пролаз у смеру означеном стрелицом, односно смеровима означеним стрелицама и наговештај скорог престанка дозвољеног пролаза укључењем жутог, а затим црвеног светла,
- b) забрањен пролаз у смеру означеном стрелицом, односно смеровима означеним стрелицама, осим у случају када се возило не може безбедно зауставити испред наведеног знака,
- v) забрањен пролаз у смеру означеном стрелицом, односно смеровима означеним стрелицама.

3

402. Светлосни саобраћајни знак – зелено светло са симболом једне или више стрелица, које даје семафор, има значење:

- a) дозвољен пролаз само у смеру означеном стрелицом, односно смеровима означеним стрелицама,
- b) дозвољен пролаз при чему се морају пропустити сва возила која долазе из супротног смера, односно возила која се крећу по путу на који возило улази,
- v) обавезу за све учеснике у саобраћају који се крећу у смеру означеном стрелицом, односно смеровима означеним стрелицама, да се крећу уз повећану опрезност.

3

Auto škola Pavlin

Škola koju ćete sigurno završiti



РЕПУБЛИКА СРБИЈА

МИНИСТАРСТВО УНУТРАШЊИХ ПОСЛОВА – УПРАВА САОБРАЋАЈНЕ ПОЛИЦИЈЕ



403.	Светлосни саобраћајни знак – трепћуће жуто светло који даје семафор има значење:	
	а) обавеза за све учеснике у саобраћају да се крећу уз повећану опрезност, б) забрањен пролаз, осим у случају када се возило не може безбедно зауставити испред наведеног знака, в) забрањен пролаз.	3

404.	Светлосни саобраћајни знак – трепћуће зелено светло који даје семафор има значење:	
	а) дозвољен пролаз и наговештај скорог престанка дозвољеног пролаза укључењем жутог, а затим црвеног светла, б) забрањен пролаз, осим у случају када се возило не може безбедно зауставити испред наведеног знака, в) забрањен пролаз.	3

405.	Светлосни саобраћајни знак приказан на слици, означава:	
------	---	--



	а) да Вам је дозвољен пролаз само у смеру означеном стрелицом, б) да Вам је дозвољен пролаз, при чему морате пропустити сва возила која долазе из супротног смера, односно возила која се крећу по путу на који возило улази, в) обавезу да се крећете уз повећану опрезност.	3
--	---	---

406.	У ситуацији приказаној на слици, светлосни саобраћајни знакови дозвољавају кретање:	
------	---	--



а) само право,	в) право и лево,	3
б) само лево,	г) у свим смеровима.	

407.	У ситуацији приказаној на слици, светлосни саобраћајни знак који регулише скретање улево на раскрсници, означава:	
------	---	--



	а) дозвољен пролаз у смеру означеном стрелицом и наговештај да ће се ускоро укључити црвено светло, б) дозвољен пролаз у смеру означеном стрелицом, в) забрањен пролаз у смеру означеном стрелицом, осим у случају када се возило не може безбедно зауставити испред наведеног знака.	3
--	---	---

408.	Светлосни саобраћајни знак приказан на слици има значење:	
------	---	--



	а) забрањен пролаз у смеру означеном стрелицом, односно смеровима означеним стрелицама, б) забрањен пролаз у смеру означеном стрелицом, односно смеровима означеним стрелицама, осим у случају када се возило не може безбедно зауставити испред наведеног знака, в) дозвољен пролаз у смеру означеном стрелицом, односно смеровима означеним стрелицама, уз обавезу за све учеснике у саобраћају да се крећу уз повећану опрезност.	3
--	--	---



409.	Светлосни саобраћајни знак – жуто светло са симболом једне или више стрелица, које даје семафор, има значење:	
	а) дозвољен пролаз у смеру означеном стрелицом, односно смеровима означеним стрелицама и наговештај да ће се ускоро укључити црвено светло, б) дозвољен пролаз у смеру означеном стрелицом, односно смеровима означеним стрелицама, в) забрањен пролаз у смеру означеном стрелицом, односно смеровима означеним стрелицама, осим у случају када се возило не може безбедно зауставити испред наведеног знака.	3

410.	У ситуацији приказаној на слици из саобраћајне траке намењене за кретање право и скретање улево светлосним саобраћајним знаком:	
		
	а) дозвољен Вам је пролаз право и улево, б) није Вам дозвољен пролаз ни право ни улево, в) дозвољен Вам је пролаз право уз повећану опрезност, а није Вам дозвољен пролаз улево.	3

411.	Светлосни саобраћајни знак – црвено светло са симболом једне или више стрелица, које даје семафор, има значење:	
	а) забрањен пролаз у смеру означеном стрелицом, односно смеровима означеним стрелицама, б) забрањен пролазу смеру означеном стрелицом, односно смеровима означеним стрелицама, осим у случају када се возило не може безбедно зауставити испред наведеног знака, в) дозвољен пролаз у смеру означеном стрелицом, односно смеровима означеним стрелицама, уз обавезу за све учеснике у саобраћају да се крећу уз повећану опрезност.	3

412.	Светлосни саобраћајни знак – трепћуће жуто светло, са симболом једне или више стрелица, које даје семафор, има значење:	
	а) обавеза за све учеснике у саобраћају да се крећу уз повећану опрезност, б) забрањен пролаз у смеру означеном стрелицом, односно смеровима означеним стрелицама, осим у случају када се возило не може безбедно зауставити испред наведеног знака, в) забрањен пролаз у смеру означеном стрелицом, односно смеровима означеним стрелицама.	3

413.	Светлосни саобраћајни знак у облику зелене стрелице (условни знак), који је додат семафору са тробојним светлима, на којем је укључено црвено или жуто светло, има значење:	
	а) дозвољен пролаз у смеру означеном стрелицом, при чему возила која се крећу у означеном смеру имају првенство пролаза у односу на сва друга возила, б) дозвољен пролаз само у смеру означеном стрелицом, при чему се морају пропустити пешаци који прелазе преко коловоза, као и сва возила која се крећу по путу на који се улази, в) дозвољен пролаз у смеру означеном стрелицом само за возила којима се врши јавни превоз путника.	3

414.	Светлосни саобраћајни знак приказан на слици има значење:	
		
	а) дозвољен пролаз у смеру означеном стрелицом, при чему возила која се крећу у означеном смеру имају првенство пролаза у односу на сва друга возила, б) дозвољен пролаз само у смеру означеном стрелицом при чему се морају пропустити сва возила која се крећу по путу на који се улази као и пешаци који прелазе преко коловоза, в) дозвољен пролаз у смеру означеном стрелицом само за возила јавног превоза путника.	3

415.	Приликом наилаaska на место на ком се изводе радови на путу возач: (Заокружити два тачна одговора)	
	а) не мора да поступа по знаковима које даје радник одређен од стране извођача радова, већ само по постављеној саобраћајној сигнализацији, б) мора уклонити своје возило само на захтев саобраћајне полиције, в) не сме да омета радника који обавља радове на путу или поред пута, г) је дужан да уклони своје возило на захтев извођача радова.	2

416.	На семафорима са тробојним светлима којима се регулише кретање возила, када се светла постављају по вертикалној оси, једно испод другог, њихов распоред је:	
	а) црвено горе, жуто у средини, а зелено доле, б) зелено горе, жуто у средини, а црвено доле, в) црвено горе, зелено у средини, а жуто доле.	3





417. У ситуацији приказаној на слици, кретање можете наставити:



а) путањама 1 и 2,
б) само путањом 1,
в) путањама 1, 2 и 3.

3

418. Светлосни саобраћајни знак – жута трепћућа стрелица, приказан на слици, означава:



а) обавезну промену саобраћајне траке изнад које се овај знак налази, односно саобраћајне траке у којој се овај знак налази и обавезу кретања саобраћајном траком на коју упућује стрелица,
б) почетак саобраћајне траке намењене за кретање возила јавног превоза путника,
в) обавезу за све учеснике у саобраћају да се крећу уз повећану опрезност.

3


419. Светлосни саобраћајни знак приказан на слици, означава:



а) обавезно заустављање возила непосредно испод места где се овај знак налази,
б) забрану кретања возила дуж саобраћајне траке изнад које се овај знак налази, осим за возила јавног превоза путника,
в) забрану кретања возила дуж саобраћајне траке изнад које се овај знак налази.

3

420. Светлосни саобраћајни знак – жута трепћућа стрелица приказан на слици означава:



а) обавезу за све учеснике у саобраћају да се крећу уз повећану опрезност,
б) обавезну промену саобраћајне траке изнад које се овај знак налази, односно саобраћајне траке у којој се овај знак налази и обавезу кретања саобраћајном траком на коју упућује стрелица,
в) почетак саобраћајне траке намењене за кретање возила јавног превоза путника.

3

421. Светлосни саобраћајни знак приказан на слици означава:



а) обавезну промену саобраћајне траке изнад које се овај знак налази, осим за возила јавног превоза путника,
б) слободан пролаз дуж саобраћајне траке изнад које се овај знак налази,
в) слободан пролаз само за трамваје.

3

422. Бројчана ознака на светлосном саобраћајном знаку приказана на слици означава:



а) препоручену брзину којом возило треба да се креће да би на наредном семафору имало слободан пролаз,
б) највећу дозвољену брзину кретања возила,
в) најмању брзину којом возила морају да се крећу.

3

423. На семафорима са тробојним светлима којима се регулише кретање возила, када се светла постављају по хоризонталној оси, једно поред другог, њихов распоред је:

а) зелено лево, жуто у средини, а црвено десно,
б) црвено лево, зелено у средини, а жуто десно,
в) црвено лево, жуто у средини, а зелено десно.

3


424. Светлосни саобраћајни знак – жуто светло који даје семафор има значење:

а) дозвољен пролаз и наговештај да ће се ускоро укључити црвено светло,
б) дозвољен пролаз,
в) забрањен пролаз, осим у случају када се возило не може безбедно зауставити испред наведеног знака.

3





425.	Семафор приказан на слици намењен је за:
	
	<p>а) регулисање кретања мотоцикала, mopеда и бицикала на бициклическим тракама, б) регулисање кретања бицикала и mopеда на бициклическим тракама, в) регулисање кретања мотоцикала, mopеда и бицикала на бициклическим стазама.</p>
	3


426.	Светлосни саобраћајни знак приказан на слици означава:
	
	<p>а) дозвољен пролаз за пешаке, б) забрањен пролаз за пешаке.</p>
	3

427.	Светлосни саобраћајни знак приказан на слици означава:
	
	<p>а) дозвољен пролаз за пешаке, б) забрањен пролаз за пешаке.</p>
	3

428.	Укључена положена црта на уређајима за давање светала за регулисање кретања трамваја, означава:
	<p>а) забрану саобраћаја трамваја, б) слободан пролаз трамваја у правцу који означава црта, в) наилазак на раскрсницу на којој се трамваји могу кретати само у правцу означеном цртом.</p>
	3

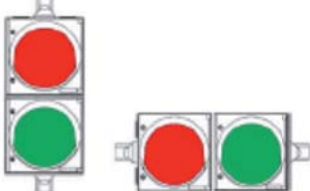
429.	На прилазима раскрсници са више саобраћајних трака:
	<p>а) семафор се поставља само са десне стране пута, б) семафори који приказују исте сигналне појмове се постављају и са десне и са леве стране пута (понављач), а по потреби и на конзолном носачу, в) семафори се увек постављају са десне стране и на порталном носачу изнад саобраћајних трака.</p>
	3

430.	Уређаји за регулисање кретања трамваја:
	<p>а) служе искључиво за регулисање кретања трамваја, б) служе и за регулисање кретања возила јавног превоза путника, само када се она крећу саобраћајном траком којом се крећу и трамваји, в) служе и за регулисање кретања возила јавног превоза путника на саобраћајним тракама којима се не крећу трамваји, а те траке су намењене само за кретање возила јавног превоза путника.</p>
	3

431.	Знак који даје уређај за давање светала за регулисање кретања трамваја, приказан на слици, означава:
	
	<p>а) забрану проласка трамваја, б) слободан пролаз трамваја у правцу који означава црта, в) правац пружања трамвајских шина на раскрсници на којој се уређај налази.</p>
	3

432.	Укључена усправна или коса црта, односно њихова комбинација, на уређајима за давање светала за регулисање кретања трамваја означава:
	<p>а) забрану саобраћаја трамваја, б) слободан пролаз у одговарајућем смеру, в) правац пружања трамвајских шина на одређеној раскрсници.</p>
	3

433.	У ситуацији приказаној на слици знак који даје уређај за давање светала за регулисање кретања трамваја означава:
	
	<p>а) забрањен пролаз трамваја, б) слободан пролаз у одговарајућем смеру, в) правац пружања трамвајских шина на одређеној раскрсници.</p>
	3

434.	Семафори приказани на слици намењени су за:
	
	<p>а) регулисање приступа возила, б) регулисање кретања бицикала на бициклическим стазама, в) регулисање кретања трамваја.</p>
	3





435. У ситуацији приказаној на слици, светлосне знакове за регулисање Вашег кретања:



а) даје само семафор који се налази на левој страни пута,
 б) даје само семафор који се налази на десној страни пута,
 в) дају семафори који се налазе на левој и на десној страни пута и на конзолном носачу.

3

436. Светлосне ознаке на путу ван насељених места које означавају леву ивицу коловоза и имају рефлектујућа тела беле боје су:

а) смерокази,
 б) значке за обележавање ивице коловоза,
 в) саобраћајни знакови.

2

437. Светлосне ознаке на путу ван насељених места које означавају десну ивицу коловоза и имају рефлектујућа тела црвене боје су:

а) смерокази,
 б) значке за обележавање ивице коловоза,
 в) саобраћајни знакови.

2

438. Светлосне ознаке на путу ван насељених места означавају:

а) ивицу коловоза,
 б) место на којем пут прелази преко трамвајске пруге у истом нивоу,
 в) слободан профил пута.

2

439. Светлосна ознака на путу ван насељених места, приказана на слици, представља:



а) значку за обележавање ивице коловоза,
 б) стуб саобраћајног знака,
 в) смероказ.

2

440. Светлосна ознака на путу ван насељених места приказана на слици представља:



а) смероказ за означавање десне ивице коловоза,
 б) смероказ за обележавање леве ивице коловоза,
 в) саобраћајни знак.

2

441. Светлосна ознака на путу ван насељених места приказана на слици представља:



а) смероказ за означавање десне ивице коловоза,
 б) смероказ за обележавање леве ивице коловоза,
 в) значку за обележавање ивице коловоза.

2

442. Светлосне ознаке на путу ван насељених места, које означавају ивицу коловоза, изведене у облику штапова обојених наизменично пољима црвене и жуте боје су:

а) смерокази,
 б) значке за обележавање ивице коловоза,
 в) саобраћајни знакови.

2

443. Светлосна ознака на путу изведена у облику табле обојене наизменично пољима црне и жуте боје је:

а) смероказ,
 б) значка за обележавање ивице коловоза,
 в) табла за означавање врха разделног острва.

2

444. Светлосна ознака на путу, приказана на слици, представља:



а) смероказ,
 б) значка за обележавање ивице коловоза,
 в) таблу за означавање врха разделног острва.

2



© Забрањено је коришћење, односно повремено или стално умножавање базе података испитних питања или њених делова, било којим средствима и у било којој форми, у **комерцијалне сврхе**

445. На врху табле за означавање врха разделног острва постављају се саобраћајни знакови који означавају:

а) препреке на путу и места на коме се изводе радови на путу,
 б) коловоз односно део коловоза којим се возила морају, односно могу, кретати приликом обилажења пешачких острва, острва за усмеравање саобраћаја и других објеката на коловозу,
 в) пут односно део пута на коме је забрањен саобраћај свим возилима у оба смера.

2

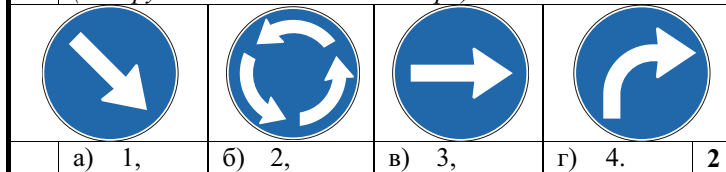
449. У ситуацији приказаној на слици, уређаји којима се забрањује и спречава прелазак возила су:



446. Који саобраћајни знак, од знакова приказаних на слици, се поставља на врх табле за означавање врха разделног острва:
 (Заокружити два тачна одговора)

а) браници,
 б) полубраници,
 в) запречне траке.

2



450. Привремена саобраћајна сигнализација се користи за:

а) ближе одређивање значења саобраћајног знака уз који је постављена,
 б) обавештавање и упућивање корисника до туристичких одређишта,
 в) обележавање препрека на путу и места на коме се изводе радови на путу.

2

447. Наизменично паљење два округла црвена светла, на семафору приказаном на слици, означава:
 (Заокружити три тачна одговора)

451. Опрема приказана на слици („Чеони браник“):



а) наилазак на место на коме пут прелази преко трамвајске пруге у истом нивоу,
 б) приближавање воза,
 в) спуштање браника или полубраника,
 г) близину раскрснице на којој је саобраћај регулисан помоћу семафора.
 д) да је браник или полубраник у спуштеном положају,
 њ) наилазак на опасну раскрсницу.

2

а) означава десну ивицу коловоза на путевима ван насељеног места,
 б) означава забрану и спречавање преласка возила преко железничке пруге,
 в) обележава препреку на путу и место на коме се изводе радови и служи за затварање пута, односно саобраћајне траке.

2

448. У ситуацији приказаној на слици, уређаји којима се забрањује и спречава прелазак возила су:



452. Опрема приказана на слици („Усмеравајући браник“):



а) браници,
 б) полубраници,
 в) запречне траке.

2

а) означава место на путу где се наилази на оштру кривину,
 б) означава пут са једносмерним саобраћајем,
 в) обележава препреку на путу и место на коме се изводе радови и служи за затварање пута, односно саобраћајне траке.

2

453. На делу пута на коме су настале препреке, односно оштећења, које се не могу одмах уклонити, односно отклонити или на коме се изводе радови, учесници у саобраћају морају бити обезбеђени постављањем:

а) браника,
 б) сигурносног троугла,
 в) приручних средстава (старе гуме, грана дрвета и сл.).

2

Auto škola Pavlin
 Škola koju ćete sigurno završiti

454. Опрема приказана на слици („Чеони браник“):



а) означава леву ивицу коловоза на путевима ван насељеног места,
 б) означава забрану и спречавање преласка возила преко железничке пруге,
 в) обележава препреку на путу и место на коме се изводе радови и служи за затварање пута, односно саобраћајне траке.

2

455. Опрема приказана на слици („Усмеравајући браник“):



а) означава место на путу где се налази на оштру кривину,
 б) обележава препреку на путу и место на коме се изводе радови и служи за затварање пута, односно саобраћајне траке,
 в) означава пут са једносмерним саобраћајем.

2

456. У ситуацији приказаној на слици постављена опрема означава:



а) препреку на путу, односно место где се изводе радови на путу, при чему се обилазак врши са десне стране,
 б) место на путу где се налази на оштру кривину,
 в) пут са једносмерним саобраћајем.

2

457. У ситуацији приказаној на слици постављена опрема означава:



а) препреку на путу, односно место где се изводе радови на путу, при чему се обилазак врши леве стране,
 б) место на путу где се налази на оштру кривину,
 в) пут са једносмерним саобраћајем.

2

458. Опрема приказана на слици („Запрека“) означава:



а) ивицу коловоза на путевима ван насељеног места,
 б) забрану и спречавање преласка возила преко железничке пруге,
 в) бочне стране радилишта, односно привремених препрека на путу, на местима где се врши потпуно затварање саобраћаја.

2

459. Опрема приказана на слици („Запрека“) означава:



а) ивицу коловоза на путевима ван насељеног места,
 б) забрану и спречавање преласка возила преко железничке пруге,
 в) бочне стране радилишта, односно привремених препрека на путу, на местима где се врши потпуно затварање саобраћаја.

2

Auto škola Pavlin
 Škola koju ćete sigurno završiti



460. Опрема приказана на слици („Вертикална запрека“) означава:



а) ивицу коловоза на путевима ван насељеног места,
 б) врх разделног острва,
 в) бочну страну радилишта на путу које се обилази са леве стране.

2

464. У ситуацији приказаној на слици постављена опрема означава:



а) ивицу коловоза на путевима ван насељеног места,
 б) границе разделног острва,
 в) бочну страну радилишта на путу које се обилази са десне стране.

2


461. У ситуацији приказаној на слици постављена опрема означава:



а) ивицу коловоза на путевима ван насељеног места,
 б) границе разделног острва,
 в) бочну страну радилишта на путу које се обилази са леве стране.

2

465. Опрема приказана на слици („Запречна трака“) означава:



а) ивицу радилишта, односно простора са привременим препрекама на путевима,
 б) забрану и спречавање преласка возила преко железничке пруге,
 в) место на путу на којем је паркирано „тешко возило“.

2

462. Опрема приказана на слици („Вертикална запрека“) означава:



а) ивицу коловоза на путевима ван насељеног места,
 б) врх разделног острва,
 в) бочну страну радилишта на путу које се обилази са десне стране.

2

466. Опрема приказана на слици („Саобраћајна купа“) означава:



а) место на путу где се изводе краткотрајни радови,
 б) врх разделног острва,
 в) место на путу на којем је паркирано „тешко возило“.

2

463. Опрема приказана на слици („Запречно уже“) означава:



а) ивицу радилишта, односно простора са привременим препрекама на путевима,
 б) забрану и спречавање преласка возила преко железничке пруге,
 в) место на путу на којем је паркирано „тешко возило“.

2

467. Опрема приказана на слици („монтажни ивичњак“) означава:

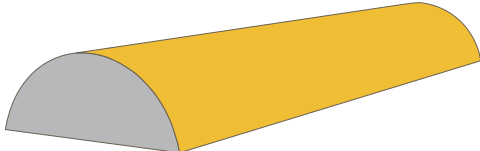


а) место на путу где су постављени елементи за успоравање саобраћаја,
 б) ивицу коловоза на путевима у насељу,
 в) површину коловоза која је намењена за кретање возила у зонама радова на путу.

2



468. Опрема приказана на слици („монтажни ивичњак“) означава:



а) место на путу где су постављени елементи за успоравање саобраћаја,
 б) ивицу коловоза на путевима у насељу,
 в) површину коловоза која је намењена за кретање возила у зонама радова на путу.

2

469. Опрема приказана на слици („Раздвајајућа ограда“) означава:



а) место на путу где постоје елементи за успоравање саобраћаја,
 б) место на путу где је неопходно извршити раздвајање супротних смерова кретања, скретање саобраћаја и раздвајање површине коловоза на којој је дозвољено кретање од површине на којој кретање возила није дозвољено,
 в) место за раздвајање паркиралишта од зауставне траке на аутопуту и мотопуту.

2

470. Опрема приказана на слици („Делинеатор“) користи се:



а) за означавање места на путу где се изводе краткотрајни радови,
 б) за означавање врха разделног острва,
 в) за раздвајање смерова кретања или вођење токова у случајевима скретања саобраћаја.

2

471. На сигналној табли којом се означавају краткотрајна покретна радилишта на путу, постављају се саобраћајни знакови и семафори означени бројем: (Заокружити два тачна одговора):



а) 1, б) 2, в) 3, г) 4, д) 5.

2

472. Опрема приказана на слици („Делинеатор“) користи се:



а) за означавање места на путу где се изводе краткотрајни радови,
 б) за означавање врха разделног острва,
 в) за раздвајање смерова кретања или вођење токова у случајевима скретања саобраћаја.

2

473. Сигнална табла приказана на слици означава:



а) краткотрајна покретна радилишта на путу,
 б) препреку на путу која се налази у десној саобраћајној траци у односу на саобраћајну траку у којој се табла налази,
 в) забрану саобраћаја на путу свим возилима због извођења радова на путу.

2

474. Сигнална табла приказана на слици означава:



а) забрану саобраћаја на путу свим возилима због извођења радова на путу,
 б) краткотрајна покретна радилишта на путу,
 в) препреку на путу која се налази у левој саобраћајној траци у односу на саобраћајну траку у којој се табла налази.

2

Auto škola Pavlin
 Škola koju ćete sigurno završiti



475. Сигнална табла, приказана на слици, поставља се:



а) на „Раздвајајућу ограду“ којом је извршено скретање саобраћаја у десну страну
 б) на задњи део моторних возила или приколице, када је возило заустављено,
 в) на „Чеони браник“ којим је извршено ограђивање радилишта или привремених препрека на путу са чеоне стране,

2

476. На сигналној табли којом се означавају краткотрајна покретна радилишта на путу, постављају се саобраћајни знакови означени бројем:
 (Заокружити три тачна одговора)

 1	 2	 3
 4	 5	 6

а) 1, б) 2, в) 3, г) 4, д) 5, њ) 6.

2

477. На делу пута на коме се изводе радови регулисање саобраћаја могу да обављају најмање два радника одређена од стране извођача радова који дају знакове:

а) заставицама црвене и зелене боје, при чему подигнута заставица црвене боје означава да је пролаз забрањен, а подигнута заставица зелене боје да је пролаз дозвољен,
 б) само заставицом црвене боје, при чему подигнута заставица означава да је пролаз забрањен, а спуштена заставица да је пролаз дозвољен,
 в) само заставицом зелене боје, при чему подигнута заставица означава да је пролаз дозвољен, а спуштена заставица да је пролаз забрањен.

2

478. У ситуацији приказаној на слици радник извођача радова даје знак заставицом који означава:



а) слободан пролаз и није обавезујући за Вас,
 б) место где се морате зауставити,
 в) слободан пролаз и обавезујући је за Вас.

2

479. У ситуацији приказаној на слици радник извођача радова даје знак заставицом који означава:



а) да је потребно да успорите кретање,
 б) слободан пролаз,
 в) место где се морате зауставити.

2

480. У ситуацији приказаној на слици радник извођача радова даје знак заставицом који означава:



а) забрањен пролаз и није обавезујући за Вас ако проходна саобраћајна трака није заузета возилима из супротног смера,
 б) да је потребно да успорите кретање, односно да наставите да се крећете ако проходна саобраћајна трака није заузета возилима из супротног смера и обавезујући је за Вас
 в) забрањен пролаз и обавезујући је за Вас.

2

Auto škola Pavlin
 Škola koju ćete sigurno završiti

481. У ситуацији приказаној на слици радник извођача радова даје знак заставицом који означава:



а) да је потребно да успорите кретање,
 б) да Вам је забрањен пролаз,
 в) да Вам је забрањен пролаз док је проходна саобраћајна трака заузета возилима из супротног смера.

2

482. Знаци које даје полицијски службеник који непосредно регулише или врши контролу саобраћаја, дају се: *(Заокружити три тачна одговора)*

а) усмено,
 б) рукама, односно положајем тела полицијског службеника,
 в) заставицом за регулисање саобраћаја,
 г) уређајима за давање светлосних и звучних знакова,
 д) „стоп таблицом“,
 њ) знаковима са измењивим садржајем порука.

3

483. Знак који даје полицијски службеник приказан на слици означава:



а) да возачи који возилима долазе из правца у коме су окренута леђа, односно прса полицијског службеника морају зауставити своја возила, а да возачи који возилима долазе са његових бочних страна имају право пролаза,
 б) забрану пролаза за све возаче, осим за оне возаче чија се возила, у часу када полицијски службеник подигне руку, не могу на безбедан начин зауставити, а за пешаке - значи забрану да прелазе коловоз,
 в) да возачи који возилима долазе из правца у коме су окренута леђа, односно прса полицијског службеника морају смањити брзину кретања.

3


484. Знак који даје полицијски службеник приказан на слици, када се налази на коловозу, означава:



а) обавезно заустављање за све возаче према којима је окренут длан и прса полицијског службеника,
 б) забрану пролаза за све возаче, осим за оне возаче чија се возила, у часу када полицијски службеник подигне руку, не могу на безбедан начин зауставити,
 в) да возачи који возилима долазе из правца у коме су окренута леђа, односно прса полицијског службеника морају зауставити своја возила, а да возачи који возилима долазе са његових бочних страна имају право пролаза.

3

485. Знак који даје полицијски службеник приказан на слици означава:



а) забрану пролаза за све возаче, осим за оне возаче чија се возила, у часу када полицијски службеник подигне руку, не могу на безбедан начин зауставити,
 б) забрану пролаза за све учеснике у саобраћају чији смер кретања сече смер предручене руке,
 в) обавезу возача да се креће у смеру предручене руке.

3



486. У ситуацији приказаној на слици:



- а) дужни сте да се зауставите,
- б) можете наставити кретање,
- в) дужни сте да кретање наставите смањеном брзином.

3

489. Знак полицијског службеника - лагано махање хоризонтално одрученом руком горе - доле, са дланом отворене шаке окренутим на доле, приказан на слици, означава да:



- а) возач у чијем смеру се даје тај знак, треба да убрза кретање возила,
- б) возач у чијем смеру се даје тај знак треба да помери своје возило ближе раскрсници, односно овлашћеном лицу које даје знак,
- в) возач у чијем смеру се даје тај знак треба да смањи брзину кретања возила.

3

487. У ситуацији приказаној на слици:



- а) није дозвољено да наставите кретање ако сечете смер предручене руке,
- б) можете наставити кретање право,
- в) дужни сте да се крећете у смеру предручене руке.

3

490. У ситуацији приказаној на слици:



- а) дужни сте да се зауставите,
- б) можете наставити кретање,
- в) дужни сте да кретање наставите смањеном брзином.

3

488. У ситуацији приказаној на слици дужни сте да:



- а) смањите брзину кретања возила,
- б) убрзате кретање возила,
- в) померите своје возило ближе овлашћеном лицу које даје знак.

3

491. У ситуацији приказаној на слици дужни сте да:



- а) смањите брзину кретања возила,
- б) убрзате кретање возила,
- в) померите своје возило ближе овлашћеном лицу које даје знак.

3





492. Знак који даје полицијски службеник приказан на слици означава да:



- а) возач у чијем смеру се даје тај знак треба да смањи брзину кретања возила,
- б) је возач у чијем смеру се даје тај знак обавезан да заустави возило,
- в) је возач у чијем смеру се даје тај знак обавезан да уклони возило са коловоза.

3

495. У ситуацији приказаној на слици:



- а) можете да наставите кретање право, када пропустите возила која се крећу путем са којим се пут којим се крећете укршта,
- б) можете да наставите кретање право, јер Вам је знаком који даје полицијски службеник то дозвољено,
- в) дужни сте да зауставите возило.

3

493. У ситуацији приказаној на слици дужни сте да:



- а) смањите брзину кретања возила,
- б) уклоните возило са коловоза,
- в) зауставите возило.

3

494. У ситуацији приказаној на слици дужни сте да:



- а) смањите брзину кретања возила,
- б) убрзате кретање возила,
- в) померите своје возило ближе раскрсници, односно овлашћеном лицу које даје знак.

3

496. Знак који даје полицијски службеник приказан на слици означава:



- а) да возачи који возилима долазе са његових бочних страна морају зауставити своја возила, а да возачи који возилима долазе из правца у коме су окренута леђа, односно прса полицијског службеника имају право пролаза,
- б) да возачи који возилима долазе из правца у коме су окренута леђа, односно прса полицијског службеника морају зауставити своја возила, а да возачи који возилима долазе са његових бочних страна имају право пролаза,
- в) забрану пролаза за све возаче, осим за оне возаче чија се возила, у часу када полицијски службеник подигне руке, не могу на безбедан начин зауставити.

3

Auto škola Pavlin
Škola koju ćete sigurno završiti





497. У ситуацији приказаној на слици:



- а) можете да наставите кретање право, када пропустите возила која се крећу путем са којим се пут којим се крећете укршта,
- б) можете да наставите кретање право, јер Вам је знаком који даје полицијски службеник то дозвољено,
- в) дужни сте да зауставите возило.

3

499. Знак који даје полицијски службеник приказан на слици означава:



- а) да возачи који возилима долазе из правца у коме су окренута леђа, односно прса полицијског службеника морају зауставити своја возила, а да возачи који возилима долазе са његових бочних страна имају право пролаза,
- б) да возачи који возилима долазе са његових бочних страна морају зауставити своја возила, а да возачи који возилима долазе из правца у коме су окренута леђа, односно прса полицијског службеника имају право пролаза,
- в) забрану пролаза за све возаче, осим за оне возаче чија се возила, у часу када полицијски службеник подигне руку, не могу на безбедан начин зауставити.

3

498.

Знак полицијског службеника - хоризонтално одручена рука са дланом отворене шаке окренутим на горе и лагано махање подлактице и шаке савијањем у лакту, приказан на слици, означава да:



- а) возач у чијем смеру се даје тај знак треба да смањи брзину кретања возила,
- б) возач у чијем смеру се даје тај знак, треба да убрза кретање возила,
- в) возач у чијем смеру се даје тај знак треба да помери своје возило ближе раскрсници, односно овлашћеном лицу које даје знак.

3

500.

Знак полицијског службеника - хоризонтално предручена рука савијена у лакту, са отвореном шаком и кружно кретање подлактице и шаке, приказан на слици, означава да:



- а) возач у чијем смеру се даје тај знак треба да смањи брзину кретања возила,
- б) возач у чијем смеру се даје тај знак, треба да убрза кретање возила,
- в) возач у чијем смеру се даје тај знак треба да помери своје возило ближе раскрсници, односно овлашћеном лицу које даје знак.

3

Auto škola Pavlin

Škola koju ćete sigurno završiti



РЕПУБЛИКА СРБИЈА

МИНИСТАРСТВО УНУТРАШЊИХ ПОСЛОВА – УПРАВА САОБРАЋАЈНЕ ПОЛИЦИЈЕ





501.	У ситуацији приказаној на слици: 	
	а) дужни сте да померите своје возило ближе раскрсници, односно овлашћеном лицу које даје знак, б) можете да наставите кретање право, в) дужни сте да зауставите возило.	3

506.	Један дужи звиждук пиштаљком који је дат од стране полицијског службеника значи:	
	а) да је неко од учесника у саобраћају поступио противно датом знаку, правилима саобраћаја или постављеним саобраћајним знаковима, б) позив учесницима у саобраћају који га чују да обрате пажњу на полицијског службеника који ће дати одговарајући знак, в) обавезу возача да се заустави.	3

507.	Више узастопних кратких звиждука пиштаљком који су дати од стране полицијског службеника значе:	
	а) позив учесницима у саобраћају који га чују да обрате пажњу на полицијског службеника који ће дати одговарајући знак, б) да је неко од учесника у саобраћају поступио противно датом знаку, правилима саобраћаја или постављеним саобраћајним знаковима, в) обавезу возача да се заустави.	3

502.	Полицијски службеник прописани знак којим се наређује смањење брзине кретања:	
	а) може давати и из возила, односно са мотоцикла, када полицијски службеник, односно возило, има видно обележје полиције, б) не може давати из возила, односно са мотоцикла, в) може давати само из возила са првенством пролаза.	3

508.	Возач који чује звучни знак пиштаљком који се састоји од више узастопних кратких звиждука који су дати од стране полицијског службеника, дужан је да:	
	а) осматрањем полицијског службеника, утврди да ли се тај знак односи на њега, б) заустави возило, в) убрза кретање возила.	3

503.	Полицијски службеник прописани знак којим се наређује убрзање кретања:	
	а) може давати само из возила са првенством пролаза, б) може давати и из возила, односно са мотоцикла, када полицијски службеник, односно возило, има видно обележје полиције, в) не може давати из возила, односно са мотоцикла.	3

509.	Светлосни знак – црвено и плаво трепћуће светло која се наизменично пале на возилу под пратњом, за возача који сусретне та возила, односно кога сустигну та возила, значи обавезу да: <i>(Заокружити три тачна одговора)</i>	
	а) возила под пратњом пропусти, да им омогући мимоилажење и претицање, односно обилажење, б) се заустави и да кретање настави тек пошто сва возила под пратњом прођу, в) по потреби заустави своје возило или га уклони са коловоза и да кретање настави тек пошто сва возила под пратњом прођу, г) се строго придржава наредби које му дају лица из пратње, д) смањи брзину и настави кретање.	3

504.	Полицијски службеник прописане знаке којима се наређује заустављање возила:	
	а) може давати и из возила, односно са мотоцикла, када полицијски службеник, односно возило, има видно обележје полиције, б) не може давати из возила, односно са мотоцикла, в) може давати само из возила са првенством пролаза.	3

510.	Светлосни знак – два трепћућа или ротациона светла плаве боје на возилу са првенством пролаза, које се креће по путу, значи обавезу возача да: <i>(Заокружити три тачна одговора)</i>	
	а) смањи брзину и настави кретање, б) се заустави и да кретање настави тек пошто сва возила са првенством пролаза прођу, в) обрати пажњу на возило с првенством пролаза, односно на возила којима оно обезбеђује пролаз и да пропусти та возила, г) по потреби заустави своје возило или га уклони са коловоза док та возила прођу, д) се строго придржава наредби које му дају лица из возила с првенством пролаза.	3

505.	Звучне знаке пиштаљком који се дају у комбинацији са знацима који се дају рукама, полицијски службеник може давати:	
	а) само кад се налази ван возила, б) само кад се налази у возилу са видним обележјем полиције, в) и када се налази ван возила и када се налази у возилу са видним обележјем полиције.	3



511.	Светлосни знак – једно трепћуће или ротационо светло плаве боје на возилу са првенством пролаза које се креће по путу, значи обавезу за возача који види то светло да: <i>(Заокружити два тачна одговора)</i>	
	а) смањи брзину и настави кретање, б) обрати пажњу на ово возило и да му уступи првенство пролаза, односно да га пропусти, в) по потреби заустави своје возило или га уклони са коловоза док то возило прође, г) се заустави и да кретање настави тек пошто сва возила са првенством пролаза прођу.	3

512.	Светлосни знак – једно трепћуће или ротационо светло плаве боје на возилу са првенством пролаза које стоји на коловозу, значи обавезу за возаче других возила да: <i>(Заокружити три тачна одговора)</i>	
	а) смање брзину кретања свог возила, б) по потреби зауставе своје возило, в) зауставе своје возило, г) поступају по наредбама полицијског службеника, д) убрзају кретање свог возила.	3

513.	Светлосни знак – два трепћућа или ротациона светла плаве боје на возилу са првенством пролаза које стоји на коловозу, значи обавезу за возаче других возила да: <i>(Заокружити три тачна одговора)</i>	
	а) смање брзину кретања свог возила, б) по потреби зауставе своје возило, в) поступају по наредбама полицијског службеника, г) зауставе своје возило, д) убрзају кретање свог возила.	3

514.	Светлосни знак – црвено и плаво трепћуће светло која се наизменично пале на возилу под пратњом, за возача који сусретне та возила, односно кога сустигну та возила, значи обавезу да:	
	а) возила под пратњом пропусти, да им омогући мимоилажење и претицање, односно обилажење и по потреби да заустави своје возило или га уклони са коловоза, да се строго придржава наредби које му дају лица из пратње и да кретање настави тек пошто сва возила под пратњом прођу, б) се заустави и да кретање настави тек пошто сва возила под пратњом прођу, в) смањи брзину и настави кретање.	3

515.	Светлосни знак на возилу полиције које представља возило с првенством пролаза, исписан на дисплеју у виду променљиве поруке, значи за возача возила које се налази непосредно иза полицијског возила које даје овај светлосни знак:	
	а) обавезу да поступи по знаку исписаном у виду поруке на дисплеју, б) препоруку како да настави кретање.	3

516.	У ситуацији приказаној на слици када је возило полиције заустављено дужни сте да: <i>(Заокружити три тачна одговора)</i>	
	а) смањите брзину кретања свог возила, б) зауставите своје возило, в) по потреби зауставите своје возило, г) поступате по наредбама полицијског службеника, д) убрзате кретање свог возила.	3

517.	Светлосни знак који полицијски службеник даје батеријском лампом која емитује постојано црвено светло машући управно на уздужну осу пута, значи обавезу возача возила које се креће на делу пута где се тај светлосни знак даје и на кога се знак односи, да:	
	а) безбедно заустави своје возило на коловозу, а по могућности ван коловоза, непосредно испред полицијског службеника који тај знак даје, б) смањи брзину кретања свог возила, в) убрза кретање свог возила.	3

518.	У ситуацији приказаној на слици, када полицијски службеник даје светлосни знак батеријском лампом која емитује постојано црвено светло машући управно на уздужну осу пута, дужни сте да:	
	а) безбедно зауставите своје возило на коловозу, а по могућности ван коловоза, непосредно испред полицијског службеника који тај знак даје, б) смањите брзину кретања свог возила, в) убрзате кретање свог возила.	3

Auto škola Pavlin
Škola koju ćete sigurno završiti





519.

У ситуацији приказаној на слици, када полицијски службеник даје светлосни знак батеријском лампом која емитује постојано црвено светло машући управно на уздужну осу пута, дужни сте да:



- а) зауставите своје возило,
- б) смањите брзину кретања свог возила, односно да се крећете са повећаном опрезношћу,
- в) убрзате кретање свог возила.

3

522.

Светлосни знак на возилу полиције приказан на слици означава:



- а) да нисте дужни да се зауставите иза полицијског возилом, ако при свом кретању нисте учинили прекршај,
- б) обавезу поступања по њему само када уз тај знак полицијски службеник из полицијског возила даје прописани знак за заустављање „стоп таблицом“,
- в) да сте дужни да зауставите возило иза полицијског возила.

3

520.

Када возило под пратњом, односно возило са првенством пролаза даје истовремено и светлосни знак упозорења (узастопним или наизменичним паљењем дугих светала), возач возила које се креће непосредно испред полицијског возила које даје те знаке, дужан је да:

- а) одмах безбедно заустави своје возило уз десну ивицу коловоза, а по могућности ван коловоза,
- б) омогући претицање полицијском возилу,
- в) смањи брзину кретања свог возила

3

521.

Светлосни знак на возилу полиције, приказан на слици, означава:



- а) да сте дужни да успорите кретање само у случају ако сте прекорачили дозвољену брзину,
- б) препоруку за безбедно кретање,
- в) да сте дужни да успорите кретање, односно да се крећете брзином којом се креће полицијско возило док даје тај знак.

3

523.

Светлосни знак на возилу полиције, приказан на слици, означава:



- а) да сте дужни да се крећете за полицијским возилом, само ако сте при свом кретању учинили прекршај,
- б) да сте дужни да се крећете за полицијским возилом док даје тај знак,
- в) препоруку за безбедно кретање.

3

Auto škola Pavlin
Škola koju ćete sigurno završiti



524. Светлосни знак на возилу полиције приказан на слици означава:



- a) да сте дужни да зауставите возило испред полицијског возила,
- b) да нисте дужни да се зауставите, ако при свом кретању нисте учинили прекршај,
- v) обавезу поступања по њему само када уз тај знак полицијски службеник из полицијског возила даје прописани знак за заустављање „стоп таблицом“.

3

Auto škola Pavlin
Škola koju ćete sigurno završiti



ВОЗАЧИ

1.	Моторним возилом, односно скупом возила, може самостално да управља возач који:	
	а) испуњава прописане услове и има уверење о положеном возачком испиту оне категорије возила којим управља, б) испуњава прописане услове и има возачку дозволу за управљање возилом оне категорије возила којим управља, в) има возачку дозволу.	2

2.	Пробна возачка дозвола се издаје за управљање моторним возилима категорије:	
В	а) А, б) В, в) В1.	2

3.	Лице са пробном возачком дозволом може управљати моторним возилом:	
В	а) само на територији општине у којој живи, б) без ограничења у територијалном смислу, в) на територији Републике Србије.	2

4.	Пробна возачка дозвола се може издати лицу које испуњава услове за управљање возилима категорије В и: <i>(Заокружити два тачна одговора)</i>	
В	а) које је навршило 17 година живота, б) које је навршило 16 година живота, в) које је навршило 18 година живота, и први пут стиче право на управљање моторним возилом категорије В, г) коме је одузета возачка дозвола зато што није управљао возилом на савестан и прописан начин.	2

5.	Возач који је пробну возачку дозволу стекао пре навршених 18 година живота за време управљања моторним возилом категорије В:	
В	а) мора бити под надзором лица које се налази у возилу и има возачку дозволу за категорију В најмање пет година, у периоду важења пробне возачке дозволе, б) мора бити под надзором лица које се налази у возилу и има возачку дозволу за категорију В најмање пет година, до навршених 18 година живота, в) мора бити под надзором лица које се налази у возилу и има возачку дозволу за категорију В најмање три године, до навршених 18 година живота.	2

6.	Моторно возило, којим управља возач који има пробну возачку дозволу, мора бити означено посебном ознаком "П", која мора бити постављена на видном месту:	
В	а) само за задње стране возила, б) са предње и задње стране возила, в) са предње, задње и бочне стране возила.	2

7.	Возач који је пробну возачку дозволу стекао са навршених 18 година живота за време управљања моторним возилом:	
В	а) не мора бити под надзором лица које се налази у возилу и има возачку дозволу за категорију В најмање пет година, б) мора бити под надзором лица које се налази у возилу и има возачку дозволу за категорију В најмање три године, у периоду од 6 месеци од дана добијања дозволе, в) мора бити под надзором лица које се налази у возилу и има возачку дозволу за категорију В најмање пет година, у периоду важења пробне возачке дозволе.	2

8.	Возач који има пробну возачку дозволу, не сме управљати моторним возилом:	
В	а) у периоду од 22,00 до 06,00 сати, б) у периоду од 23,00 до 05,00 сати, до навршених 18 година живота, в) у периоду од 23,00 до 05,00 сати.	2

9.	Возачу који има пробну возачку дозволу, за време управљања моторним возилом:	
В	а) дозвољено је коришћење телефона и других средстава за комуникацију само уз опрему која омогућава њихову употребу без ангажовања руку, б) дозвољено је коришћење телефона и других средстава за комуникацију само уз опрему која омогућава њихову употребу без ангажовања руку, у периоду од 05,00 до 23,00 сата, в) није дозвољено коришћење телефона и других средстава за комуникацију.	2

10.	Возачу који има пробну возачку дозволу кретање брзином већом од 90% од брзине која је дозвољена на делу пута којим се креће:	
В	а) није дозвољено, б) није дозвољено само у периоду од 23,00 до 05,00 сати, в) није дозвољено само до навршених 18 година живота.	2

11.	Пробна возачка дозвола издаје се са роком важења:	
В	а) од једне године, б) до навршених 18 година живота лица које има пробну возачку дозволу, в) од пет година.	2

Auto škola Pavlin
Škola koju ćete sigurno završiti



РЕПУБЛИКА СРБИЈА

МИНИСТАРСТВО УНУТРАШЊИХ ПОСЛОВА – УПРАВА САОБРАЋАЈНЕ ПОЛИЦИЈЕ





Забрањено је коришћење, односно повремено или стално умножавање базе података испитних питања или њених делова, било којим средствима и у било којој форми, у **комерцијалне сврхе**

13.	Возачу којем је одлуком надлежног органа забрањено управљање моторним возилом:	
	а) дозвољено је управљање моторним возилом, односно скупом возила, само на локалним путевима, б) дозвољено је управљање само моторним возилима чија највећа конструктивна брзина није већа од 45 km/h, в) није дозвољено управљање моторним возилом, односно скупом возила, г) дозвољено је управљање само скупом возила.	2

14.	Возачу који је искључен из саобраћаја:	
	а) дозвољено је управљање моторним возилом, односно скупом возила, само до места његовог пребивалишта, односно седишта правног лица у случају када је возило власништво правног лица, б) није дозвољено управљање само моторним возилима оне категорије којом је управљао у моменту искључења, в) дозвољено је управљање само скупом возила, г) није дозвољено управљање моторним возилом, односно скупом возила.	2

15.	Возачу који има две возачке дозволе издате од стране две државе, коришћење обе дозволе у исто време:	
	а) није дозвољено, б) је дозвољено, в) је дозвољено, ако борави ван места пребивалишта дуже од три месеца.	2

16.	Коришћење возачке дозволе чији је нестанак возач пријавио надлежном органу:	
	а) је дозвољено, б) није дозвољено, в) је дозвољено само у случају одузимања дупликата возачке дозволе.	2

17.	Да ли возач има обавезу да пријави промену пребивалишта надлежном органу?	
	а) Да, ради уписа у евиденцију возача, у року од 30 дана од дана те промене. б) Не, јер постоји јединствена евиденција возача. в) Да, ради уписа у евиденцију возача, у року од 90 дана од дана те промене.	2

18.	За време управљања моторним возилом, односно скупом возила, возач код себе:	
	а) мора имати возачку дозволу, односно пробну возачку дозволу, б) мора имати само личну карту, јер постоји јединствени регистар возача, путем кога је могуће извршити проверу, в) не мора имати возачку дозволу, односно пробну возачку дозволу, ако поседује међународну возачку дозволу.	2

19.	Возач коме је издата пробна возачка дозвола не управља возилом савесно и на прописан начин ако има:	
	а) најмање 18 казних поена, б) најмање 12 казних поена, в) најмање 9 казних поена.	2

20.	Међународна возачка дозвола издата у Републици Србији:	
	а) сме се користити за управљање моторним возилима на територији Републике Србије, б) не сме се користити за управљање моторним возилима на територији Републике Србије.	2

21.	Да ли возач мора дати овлашћеном лицу на увид возачку дозволу, односно пробну возачку дозволу, при контроли у саобраћају на путу?	
	а) Да. б) Не, ако је на увид дата лична карта помоћу које се може извршити провера у јединственом регистру возача. в) Не, ако је на увид дата међународна возачка дозвола.	2

22.	Приликом управљања возилом на путу возач је дужан да:	
	а) користи помагала која су уписана у возачку дозволу, односно пробну возачку дозволу, б) има у возилу помагала која су уписана у возачку дозволу, односно пробну возачку дозволу и да их по потреби користи, в) користи само она помагала која су му потребна за време војње.	2

23.	Здравственом прегледу ради утврђивања психофизичке способности морају се у одређеном року подвргавати: <i>(Заокружити два тачна одговора)</i>	
	а) сви возачи који управљају моторним возилима, б) возачи који управљају моторним возилима, односно скупом возила којима се обавља јавни превоз, в) возачи који управљају возилима којима се обавља превоз опасних материја, г) возачи којима је управљање моторним возилима основно занимање.	3

24.	Возачи који управљају моторним возилом, односно скупом возила којима се обавља јавни превоз, морају се подвргавати здравственом прегледу ради утврђивања психофизичке способности за возача:	
	а) у року који не може бити дужи од три године, б) у року који не може бити дужи од пет година, в) сваке године.	3

25.	Контролном здравственом прегледу мора се подвргнути возач:	
	а) који је учествовао у саобраћајној незгоди, б) код кога се посумња да због психофизичких сметњи, односно недостатака, није у стању безбедно да управља возилом, в) који је учинио више од три прекршаја из прописа из безбедности саобраћаја у току једне године.	3

26.	Возач коме је издата возачка дозвола не управља возилом савесно и на прописан начин ако има:	
	а) најмање 10 казних поена, б) најмање 14 казних поена, в) најмање 18 казних поена.	2



РЕПУБЛИКА СРБИЈА

МИНИСТАРСТВО УНУТРАШЊИХ ПОСЛОВА – УПРАВА САОБРАЋАЈНЕ ПОЛИЦИЈЕ





Забрањено је коришћење, односно повремено или стално умножавање базе података испитних питања или њених делова, било којим средствима и у било којој форми, у **комерцијалне сврхе**

27.	Када се возач у одређеном року не подвргне контролном здравственом прегледу на који је упућен, надлежни орган ће:	
	а) возачу одузети возачку дозволу, б) против возача поднети захтев за покретање прекршајног поступка, в) возачу привремено забранити управљање возилом у саобраћају на путу док се не подвргне контролном здравственом прегледу.	3

28.	Возачу који возилом не управља савесно и на прописан начин организациона јединица Министарства унутрашњих послова која возача води у евиденцији:	
	а) одузеће возачку дозволу, б) привремено ће забранити управљање моторним возилом у трајању до једне године, в) изрећи ће одговарајући број казних поена.	2

29.	Возач коме је издата возачка дозвола не управља возилом савесно и на прописан начин уколико је:	
	а) правоснажном пресудом осуђен за кривично дело против безбедности јавног саобраћаја, које за последицу има смрт лица, б) најмање 2 пута у року од 5 године правоснажно осуђен за кривично дело против безбедности јавног саобраћаја, које за последицу има смрт лица, в) правоснажном пресудом осуђен за кривично дело против безбедности јавног саобраћаја, које за последицу има тешке телесне повреде другог лица.	2

30.	Возач коме је издата возачка дозвола не управља возилом савесно и на прописан начин уколико је:	
	а) правоснажном пресудом осуђен за кривично дело против безбедности јавног саобраћаја, које за последицу има тешке телесне повреде другог лица, б) више од једном у року од 5 године правоснажно осуђен за кривично дело против безбедности јавног саобраћаја, које за последицу има тешке телесне повреде другог лица, в) више од једном у року од 5 године правоснажно осуђен за кривично дело против безбедности јавног саобраћаја, које за последицу има телесне повреде другог лица или имовинску штету.	2

47.	Возачку дозволу за управљање возилима категорије ВЕ могу добити само они возачи који већ имају возачку дозволу за управљање моторним возилом категорије:	
	а) А, б) В, в) В1.	2

33.	Возач коме је издата возачка дозвола не управља возилом савесно и на прописан начин уколико је:	
	а) правоснажном пресудом осуђен за кривично дело против безбедности јавног саобраћаја, које за последицу има телесне повреде другог лица или имовинску штету, б) више од једном у року од 5 године правоснажно осуђен за кривично дело против безбедности јавног саобраћаја, које за последицу има телесне повреде другог лица или имовинску штету, в) више од једном у року од 3 године правоснажно осуђен за кривично дело против безбедности јавног саобраћаја, које за последицу има телесне повреде другог лица или имовинску штету.	2

34.	Казнени поени изречени возачу се бришу:	
	а) након истека 24 месеца од дана правоснажности одлуке о прекршају, б) након истека 24 месеца од дана извршења прекршаја, в) уколико возач у току 24 месеца од дана правоснажности одлуке о прекршају није поново правоснажно кажњен изрицањем казних поена.	2

35.	Лице којем је изречена заштитна мера, односно мера безбедности забране управљања моторним возилом:	
	а) не може започети нити вршити обуку и полагати возачки испит у време трајања те мере, б) може вршити обуку али не може полагати возачки испит, у време трајања те мере, в) може вршити теоријску обуку и полагати теоријски испит, али не може вршити практичну обуку и полагати практични испит, у време трајања те мере.	2

36.	Кандидат за возача за време практичне обуке код себе мора имати и ставити на увид: <i>(Заокружити три тачна одговора)</i>	
	а) доказ о здравственој способности за возача, б) потврду о положеном теоријском испиту, в) личну карту, г) потврду о завршеној теоријској обуци, д) уговор о условима под којима ће се обавити обука, ђ) књижицу обуке кандидата за возача.	2

48.	Возачку дозволу за управљање возилима категорије С1Е могу добити само они возачи који већ имају возачку дозволу за управљање моторним возилом категорије:	
	а) В, б) В1, в) С1.	2

Auto škola Pavlin
Škola koju ćete sigurno završiti



РЕПУБЛИКА СРБИЈА

МИНИСТАРСТВО УНУТРАШЊИХ ПОСЛОВА – УПРАВА САОБРАЋАЈНЕ ПОЛИЦИЈЕ





Забрањено је коришћење, односно повремено или стално умножавање базе података испитних питања или њених делова, било којим средствима и у било којој форми, у **комерцијалне сврхе**

62.	Возач коме је издата возачка дозвола за управљање моторним возилима категорије В1 сме да управља у саобраћају на путу: (Заокружити три тачна одговора)	
	а) тешким трициклом чија снага мотора није већа од 15 kW, б) мопедом, в) тешким трициклом без обзира на снагу мотора, г) лаким и тешким четвороциклом, д) радном машином, ђ) мотокултиватором.	2

68.	Возач коме је издата возачка дозвола за управљање моторним возилима категорије В сме да управља у саобраћају на путу: (Заокружити два тачна одговора)	
	а) путничким возилима чија највећа дозвољена маса није већа од 3.500 kg, б) мопедом, в) теретним возилима чија највећа дозвољена маса није већа од 3.500 kg, г) теретним возилима чија носивост није већа од 3.500 kg.	2

63.	Возач коме је издата возачка дозвола за управљање моторним возилима категорије В1 сме да управља у саобраћају на путу: (Заокружити два тачна одговора)	
	а) трактором, б) тешким трициклом чија снага мотора није већа од 15 kW, в) радном машином чија највећа дозвољена маса није већа од 3.500 kg, г) лаким трициклом и лаким четвороциклом, д) мопедом.	2

69.	Возач коме је издата возачка дозвола за управљање моторним возилима категорије В сме да управља у саобраћају на путу: (Заокружити два тачна одговора)	
	а) трактором, б) мотокултиватором, в) радном машином, г) тешким четвороциклом.	2

64.	Возач коме је издата возачка дозвола за управљање моторним возилима категорије В сме да управља у саобраћају на путу: (Заокружити два тачна одговора)	
	а) трактором, б) тешким трициклом чија снага мотора није већа од 15 kW, в) радном машином чија највећа дозвољена маса није већа од 3.500 kg, г) тешким трициклом чија снага мотора је већа од 15 kW када напуни 21 годину.	2

70.	Возач коме је издата возачка дозвола за управљање возилима категорије ВЕ сме да управља у саобраћају на путу скуповима возила који чине вучно возило које припада категорији В и прикључно возило чија:	
	а) највећа дозвољена маса није већа од 3.500 kg, б) највећа дозвољена маса није већа од 5.000 kg, в) носивост није већа од 3.500 kg.	2

65.	Возач коме је издата возачка дозвола за управљање моторним возилима категорије В сме да управља у саобраћају на путу: (Заокружити два тачна одговора)	
	а) мопедом, б) лаким трициклом, в) радном машином, г) лаким четвороциклом.	2

85.	Возач који је неспособан за безбедно управљање возилом, односно који је у толикој мери уморан, односно болестан или је у таквом психичком стању да није способан да безбедно управља возилом:	
	а) не сме да управља возилом у саобраћају на путу, б) сме да управља возилом у саобраћају на кратком делу пута, в) сме да управља возилом у саобраћају на путу ако тиме не омета, односно не угрожава друге учеснике у саобраћају.	3

67.	Возач коме је издата возачка дозвола за управљање моторним возилима категорије В може да управља у саобраћају на путу тим возилима и када им је придодато прикључно возило:	
	а) чија највећа дозвољена маса није већа од 750 kg, б) ако највећа дозвољена маса скупа возила није већа од 3.500 kg, в) ако маса прикључног возила није већа од масе вучног возила.	2

86.	Возач који је под дејством алкохола, односно психоактивних супстанци:	
	а) сме да управља возилом у саобраћају на путу ако тиме не омета, односно не угрожава друге учеснике у саобраћају, б) сме да управља возилом у саобраћају на кратком делу пута, в) не сме да управља возилом у саобраћају на путу, г) не сме да управља возилом само у саобраћају на јавном путу.	3

87.	Под дејством алкохола је возач код којег је садржај алкохола у крви (утврђен анализом одговарајућег узорка крви или средствима или апаратима за мерење алкохолисаности) већи од:	
	а) 1,20 mg/ml, б) 0,50 mg/ml, в) 0,30 mg/ml.	3

Auto škola Pavlin
Škola koju ćete sigurno završiti



РЕПУБЛИКА СРБИЈА

МИНИСТАРСТВО УНУТРАШЊИХ ПОСЛОВА – УПРАВА САОБРАЋАЈНЕ ПОЛИЦИЈЕ





Забрањено је коришћење, односно повремено или стално умножавање базе података испитних питања или њених делова, било којим средствима и у било којој форми, у **комерцијалне сврхе**

89.	Возач моторног возила чија је највећа дозвољена маса већа од 3.500 kg, када управља возилом у саобраћају на путу:	
	а) не сме да има алкохола у крви, б) сме да има садржај алкохола у крви највише до 0,30 mg/ml, в) сме да има садржај алкохола у крви највише до 0,30 mg/ml, ако не обавља јавни превоз лица, односно ствари.	3

90.	Возач возила којим се превозе опасне материје, односно врши ванредни превоз, када управља возилом у саобраћају на путу:	
	а) сме да има садржај алкохола у крви највише до 0,30 mg/ml, б) не сме да има алкохола у крви, в) сме да има садржај алкохола у крви највише до 0,30 mg/ml, ако не обавља јавни превоз ствари.	3

91.	Када учествује у саобраћају на путу, не сме да има алкохола у организму возач: (Заокружити два тачна одговора)	
	а) возила којим се превозе опасне материје, б) возила којим се врши ванредни превоз, в) возила којим се врши пробна вожња, г) мотокултиватора.	3

95.	Возач возила категорије А, када управља возилом у саобраћају на путу:	
	а) не сме да има алкохола у крви, б) сме да има садржај алкохола у крви највише до 0,30 mg/ml, в) сме да има садржај алкохола у крви највише до 0,50 mg/ml.	3

96.	Кандидат за возача током практичне обуке и полагања практичног испита:	
	а) не сме да има алкохола у крви, б) сме да има садржај алкохола у крви највише до 0,30 mg/ml, в) сме да има садржај алкохола у крви највише до 0,50 mg/ml.	3

97.	Возач са пробном возачком дозволом, када управља возилом у саобраћају на путу:	
	а) не сме да има алкохола у крви само у периоду од 23,00 до 05,00 сати, б) не сме да има алкохола у крви, в) сме да има садржај алкохола у крви највише до 0,30 mg/ml.	3

98.	Утврђивање да ли је возач у толикој мери уморан, болестан или је у таквом психофизичком стању да није способан да безбедно управља возилом, врши се:	
	а) стручним прегледом, б) непосредним увидом полицијског службеника, в) помоћу одговарајућих уређаја, од стране полицијског службеника.	3

99.	Возач возила на слици:	
		
	а) не сме да има алкохола у крви, б) сме да има садржај алкохола у крви највише до 0,30 mg/ml, в) сме да има садржај алкохола у крви највише до 0,50 mg/ml.	3

100.	Возач возила којим се обавља јавни превоз лица, када управља возилом у саобраћају на путу:	
	а) не сме да има алкохола у организму, б) сме да има садржај алкохола у крви највише до 0,30 mg/ml, в) сме да има садржај алкохола у крви највише до 0,50 mg/ml.	3

101.	Возач возила са правом првенства пролаза, када управља возилом у саобраћају на путу:	
	а) сме да има садржај алкохола у крви највише до 0,30 mg/ml, б) сме да има садржај алкохола у крви највише до 0,50 mg/ml, в) не сме да има алкохола у крви.	3

102.	Возач возила којим се обавља јавни превоз ствари, када управља возилом у саобраћају на путу:	
	а) не сме да има алкохола у организму, б) сме да има садржај алкохола у крви највише до 0,30 mg/ml, в) сме да има садржај алкохола у крви највише до 0,50 mg/ml.	3

ДУЖНОСТИ У СЛУЧАЈУ САОБРАЋАЈНЕ НЕЗГОДЕ

103.	Лице које се затекне или наиђе на место саобраћајне незгоде у којој има повређених лица дужно је да одмах обавести:	
	а) управљача пута, б) полицију, односно службу хитне медицинске помоћи, в) породицу повређеног лица.	2

104.	Возач који је учествовао у саобраћајној незгоди у којој је неко лице задобило телесне повреде, односно погинуло, или је настала велика материјална штета дужан је да:	
	а) обавести полицију и попуни Европски извештај о саобраћајној незгоди, б) обезбеди трагове и предмете незгоде, под условом да тиме не угрожава безбедност саобраћаја, в) обавести службу помоћи на путу и удаљи се са места незгоде ако прети опасност од нових саобраћајних незгода.	2

Auto škola Pavlin

Škola koju ćete sigurno završiti

РЕПУБЛИКА СРБИЈА

МИНИСТАРСТВО УНУТРАШЊИХ ПОСЛОВА – УПРАВА САОБРАЋАЈНЕ ПОЛИЦИЈЕ



Забрањено је коришћење, односно повремено или стално умножавање базе података испитних питања или њених делова, било којим средствима и у било којој форми, у **комерцијалне сврхе**

105	Возач који је учествовао у саобраћајној незгоди у којој је неко лице задобило телесне повреде, односно погинуло, или је настала велика материјална штета дужан је да:	2	109	Возач који је учествовао у саобраћајној незгоди у којој је неко лице задобило телесне повреде, односно погинуло, или је настала велика материјална штета дужан је да:	2
	<ul style="list-style-type: none"> а) обавести службу хитне помоћи и удаљи се са места незгоде ако прети опасност од нових саобраћајних незгода, б) обавести службу хитне помоћи, повређене што пре уклони са коловоза, односно избави из возила и остави их на месту где не могу бити угрожени, в) укаже помоћ повређенима, односно прву помоћ или медицинску помоћ у складу са својим знањима, способностима и могућностима. 			<ul style="list-style-type: none"> а) предузме све мере заштите које су у његовој моћи да се спречи настајање нових и увећавање постојећих последица и повреда, б) обавести службу помоћи на путу и удаљи се са места незгоде ако прети опасност од нових саобраћајних незгода, в) обавести полицију и удаљи се са места незгоде ако није изазвао ту незгоду и нема знања, способности и могућности да пружи помоћ лицима повређеним у саобраћајној незгоди. 	
106	Лице које се затекне или наиђе на место саобраћајне незгоде у којој има повређених лица: <i>(Заокружити два тачна одговора)</i>	2	110	Возач који је учествовао у саобраћајној незгоди у којој је неко лице задобило телесне повреде, односно погинуло, или је настала велика материјална штета:	2
	<ul style="list-style-type: none"> а) није обавезно да предузима било какве радње, односно мора обићи место саобраћајне незгоде на начин који неће довести до уништења трагова уколико је то могуће, б) обавезно је да у складу са својим знањима, способностима и могућностима пружи помоћ лицима повређеним у саобраћајној незгоди и по потреби их превезе до најближе здравствене установе, в) обавезно је да се што пре удаљи са места саобраћајне незгоде и обавести најближу службу помоћи на путу, г) обавезно је да предузме све што је у његовој моћи да спречи увећавање постојећих, односно настајање нових последица. 			<ul style="list-style-type: none"> а) дужан је да до доласка полиције врши регулисање саобраћаја на начин како то раде овлашћена лица, б) дужан је да упозори сва лица да се склоне са коловоза да не би била повређена и да не би уништавала трагове незгоде, в) није дужан да даје упозорења лицима која се затекну или наиђу на место саобраћајне незгоде. 	
107	Возач је дужан да заустави возило, искључи мотор, укључи све показиваче правца, постави сигурносни троугао на безбедном растојању, обавести полицију и/или службу хитне помоћи и предузме друге расположиве мере како би упозорио остале учеснике у саобраћају о постојању незгоде:	2	111	Возач који је учествовао у саобраћајној незгоди у којој је неко лице задобило телесне повреде, односно погинуло, или је настала велика материјална штета дужан је да:	2
	<ul style="list-style-type: none"> а) када је учествовао у саобраћајној незгоди без обзира на њене последице, б) када је учествовао у саобраћајној незгоди у којој је неко лице задобило телесне повреде, односно погинуло, или је настала велика материјална штета, в) када учесник који је изазвао саобраћајну незгоду неће да надокнади малу материјалну штету која је наступила као последица те незгоде. 			<ul style="list-style-type: none"> а) обавести службу помоћи на путу и да се удаљи са места незгоде ако прети опасност од нових саобраћајних незгода, б) обавести полицију и да се удаљи са места незгоде ако није изазвао ту незгоду и нема знања, способности и могућности да пружи помоћ лицима повређеним у саобраћајној незгоди, в) обавести полицију и остане на месту незгоде до доласка полиције и завршетка увиђаја. 	
108	Од настанка саобраћајне незгоде до завршетка увиђаја, учесницима саобраћајне незгоде узимање алкохолних пића, односно психоактивних супстанци:	2	112	Возач који је учествовао у саобраћајној незгоди у којој је неко лице задобило телесне повреде, односно погинуло, или је настала велика материјална штета: <i>(Заокружити два тачна одговора)</i>	2
	<ul style="list-style-type: none"> а) није дозвољено, б) је дозвољено, након спроведеног испитивања на присуство ових материја, в) није дозвољено, само када му такву забрану саопшти лице које врши увиђај. 			<ul style="list-style-type: none"> а) дужан је да остане на месту незгоде до доласка полиције, без обзира на своје и повреде других учесника незгоде, б) може се удаљити са места незгоде ако му је неопходна хитна медицинска помоћ, в) може се удаљити са места незгоде ради превозења повређеног до најближе здравствене установе, г) може се удаљити са места незгоде ако нема знања, способности и могућности да пружи помоћ лицима повређеним у саобраћајној незгоди. 	

Auto škola Pavlin
Škola koju ćete sigurno završiti



РЕПУБЛИКА СРБИЈА

МИНИСТАРСТВО УНУТРАШЊИХ ПОСЛОВА – УПРАВА САОБРАЋАЈНЕ ПОЛИЦИЈЕ





Забрањено је коришћење, односно повремено или стално умножавање базе података испитних питања или њених делова, било којим средствима и у било којој форми, у **комерцијалне сврхе**

113	У саобраћајној незгоди у којој је настала мања материјална штета било који учесник саобраћајне незгоде или лице које је претрпело материјалну штету:	2
	а) може захтевати да полицијски службеник изађе на место незгоде и изврши увиђај, б) не може захтевати да полицијски службеник изађе на место незгоде и изврши увиђај, односно учесници ће попунити Европски извештај о саобраћајној незгоди, в) може захтевати да полицијски службеник изађе на место незгоде и изврши увиђај, само у случају када су и остали учесници, односно лице које је претрпело материјалну штету, сагласни са тим захтевом.	

114	Ако је бар један учесник или лице које је претрпело материјалну штету, у саобраћајној незгоди у којој је настала мања материјална штета, захтевао вршење увиђаја остали учесници:	2
	а) нису дужни да остану на месту саобраћајне незгоде, до завршетка увиђаја, б) су дужни да оставе податке о себи и возилу учеснику који је захтевао вршење увиђаја и могу се удаљити са места саобраћајне незгоде, в) су дужни да остану на месту саобраћајне незгоде, до завршетка увиђаја.	

115	Возач који је учествовао у саобраћајној незгоди у којој је настала само мања материјална штета: (<i>Заокружити два тачна одговора</i>)	2
	а) дужан је да до доласка полиције врши регулисање саобраћаја на начин како то раде овлашћена лица, б) дужан је да упозори остале учеснике у саобраћају о постојању возила и других препрека на путу, уколико их сам не може уклонити, в) дужан је да уклони возило и друге предмете са коловоза, ако онемогућавају или угрожавају одвијање саобраћаја, односно ако прети опасност од нових саобраћајних незгода, г) није дужан да даје упозорења лицима која се затекну или наиђу на место саобраћајне незгоде, д) не сме померати возило са места саобраћајне незгоде.	

116	Узимање узорка крви, односно урина, ради утврђивања присуства алкохола, односно психоактивних супстанци у организму учесника саобраћајне незгоде у којој има погинулих, односно повређених лица:	2
	а) је обавезно, б) није обавезно, уколико је провера присуства ових материја извршена коришћењем одговарајућих средстава, в) је обавезно, само у случају када је присуство ових материја утврђено коришћењем одговарајућих средстава.	

117	Возач који је учествовао у саобраћајној незгоди у којој је настала само мања материјална штета: (<i>Заокружити два тачна одговора</i>)	2
	а) дужан је да попуни Европски извештај о саобраћајној незгоди у случају када овлашћено лице не врши увиђај саобраћајне незгоде, б) не сме померати возило са места саобраћајне незгоде, в) дужан је да упозори сва лица да се склоне са коловоза да не би ометала саобраћај, г) дужан је да обавести полицију и поступи у складу са добијеним упутствима од стране полиције, д) није дужан да даје упозорења лицима која се затекну или наиђу на место саобраћајне незгоде.	

118	Возач који је учествовао у саобраћајној незгоди у којој је настала само мања материјална штета: (<i>Заокружити два тачна одговора</i>):	2
	а) дужан је да обавести полицију и поступи у складу са добијеним упутствима од стране полиције, б) дужан је да остави податке о себи и возилу возачу оштећеног возила или држаоцу друге оштећене ствари у незгоди, односно полицији, в) дужан је да до доласка полиције врши регулисање саобраћаја на начин како то раде овлашћена лица, г) дужан је да предузме мере заштите које су у његовој моћи да се спречи настајање нових и увећавање постојећих последица незгоде, д) дужан је да одмах надокнади штету другим учесницима саобраћајне незгоде ако је изазвао ту незгоду.	

119	Ако учесник у саобраћајној незгоди у којој је настала мања материјална штета на другом возилу, због одсутности возача другог возила, није у могућности да пружи личне податке и податке о осигурању возила, дужан је да:	2
	а) на оштећеном возилу у писаној форми остави своје личне податке, б) о тој незгоди обавести полицију и саопшти своје личне податке и податке о оштећеном возилу, в) о тој незгоди обавести осигуравајуће друштво код којег је осигурано његово возило и саопшти своје личне податке и податке о оштећеном возилу.	

120	Одузете регистарске таблице са возила које је учествовало у саобраћајној незгоди враћају се власнику, односно кориснику возила:	2
	а) када надлежном органу достави доказ да је возило технички исправно, б) након обављеног вештачења возила, в) након извршене поправке возила.	

Auto škola Pavlin
Škola koju ćete sigurno završiti



РЕПУБЛИКА СРБИЈА

МИНИСТАРСТВО УНУТРАШЊИХ ПОСЛОВА – УПРАВА САОБРАЋАЈНЕ ПОЛИЦИЈЕ





Забрањено је коришћење, односно повремено или стално умножавање базе података испитних питања или њених делова, било којим средствима и у било којој форми, у **комерцијалне сврхе**

121	Приликом вршења увиђаја саобраћајне незгоде у којој нема погинулих, односно повређених лица, испитивање возача на присуство алкохола, односно психоактивних супстанци, помоћу одговарајућих средстава (алкометар, дрога тест и др.):	
	а) није обавезно, б) је обавезно, в) врши се само када то захтева бар један од учесника саобраћајне незгоде.	2

122	Меру искључења и одузимања регистарских таблица возила која су учествовала у саобраћајној незгоди полицијски службеник примењује:	
	а) на сва возила, када у незгоди има погинулих, односно повређених лица, б) на возила која нису у возном стању, односно на којима су очигледно неисправни склопови и уређаји битни за безбедно кретање, в) на возила којима је управљао возач чије је непрописно понашање довело до саобраћајне незгоде.	2

123	Након обављеног увиђаја саобраћајне незгоде, возач, односно власник возила, дужан је да:	
	а) без одлагања уклони са коловоза возило, терет, ствари или други материјал расут по путу, б) уклони возило са коловоза и обавести управљача пута о месту на коме се налазе ствари или други материјали расути по путу, в) уклони возило уколико је у возном стању.	2

124	Након саобраћајне незгоде са мањом материјалном штетом учесници у саобраћајној незгоди:	
	а) попуњавају записник о саобраћајној незгоди, б) попуњавају Европски извештај о саобраћајној незгоди, в) сачињавају изјаве, г) обавезни су да обавесте полицију ради вршења увиђаја.	2

ВРЕМЕ УПРАВЉАЊА И ОДМОР ВОЗАЧА

125	Дневно време управљања је укупно време управљања возилом:	
	а) у току било која 24 часа, б) између две паузе, в) између два дневна одмора или између дневног и недељног одмора.	2

126	Недеља је временски период:	
	а) од краја једног до почетка наредног недељног одмора, б) од било којих узастопних 7 периода по 24 часа у којима је возач управљао возилом, в) између понедељка у 00:00 сати и недеље у 24:00 сата.	2

127	Дневно време управљања теретним возилом или скупом возила чија је највећа дозвољена маса већа од 3.500 kg или аутобусом, може бити највише:	
	а) 9 сати, односно највише два пута недељно по 10 сати, б) 8 сати, в) 11 сати.	2

128	Укупно време управљања теретним возилом или скупом возила чија је највећа дозвољена маса већа од 3.500 kg или аутобусом у раздобљу од две узастопне недеље може бити највише:	
	а) 56 сати, б) 90 сати, в) 72 сата.	2

130	Пуни дневни одмор возача теретног возила или скупа возила чија највећа дозвољена маса прелази 3.500 kg или аутобуса траје најмање:	
	а) 9 сати, б) 11 сати, в) 12 сати.	2

131	Скраћени дневни одмор возача теретног возила или скупа возила чија највећа дозвољена маса прелази 3.500 kg или аутобуса траје:	
	а) најмање 10 сати, а мање од 12 сати, б) најмање 8 сати, а мање од 12 сати, в) најмање 9 сати, а мање од 11 сати.	2

132	Пуни недељни одмор возача теретног возила или скупа возила чија највећа дозвољена маса прелази 3.500 kg или аутобуса траје најмање:	
	а) 48 сати, б) 45 сати, в) 56 сати.	2

133	Скраћени недељни одмор возача теретног возила или скупа возила чија највећа дозвољена маса прелази 3.500 kg или аутобуса траје:	
	а) најмање 24 сата, а мање од 45 сати, б) најмање 30 сати, а мање од 48 сати, в) најмање 12 сати, а мање од 24 сата.	2

134	Возач теретног возила или скупа возила чија највећа дозвољена маса прелази 3.500 kg или аутобуса, мора направити паузу у трајању од најмање 45 минута најкасније након:	
	а) 5 сати и 30 минута управљања возилом, б) 4 сата и 30 минута управљања возилом, в) 4 сата управљања возилом.	2

135	Паузу од најмање 45 минута, најкасније након 4 сата и 30 минута управљања возилом, мора направити возач: (Заокружити два тачна одговора)	
	а) било којег возила, б) теретног возила, в) теретног возила, само када његова највећа дозвољена маса прелази 7.500 kg, г) скупа возила чија највећа дозвољена маса прелази 3.500 kg, д) било којег скупа возила.	2



РЕПУБЛИКА СРБИЈА

МИНИСТАРСТВО УНУТРАШЊИХ ПОСЛОВА – УПРАВА САОБРАЋАЈНЕ ПОЛИЦИЈЕ





Забрањено је коришћење, односно повремено или стално умножавање базе података испитних питања или њених делова, било којим средствима и у било којој форми, у **комерцијалне сврхе**

137	Возач теретног возила или скупа возила чија највећа дозвољена маса прелази 3.500 kg или аутобуса уместо паузе од најмање 45 минута, може направити више пауза распоређених током вожње тако да време управљања не сме бити дуже од 4 сата и 30 минута и да:	
	а) укупно трајање пауза износи најмање 45 минута, б) прва пауза траје најмање 10 минута, а друга најмање 35 минута. в) свака пауза траје најмање 15 минута, при чему укупно трајање пауза износи најмање 45 минута.	2

140	Возач теретног возила или скупа возила чија највећа дозвољена маса прелази 3.500 kg или аутобуса, мора да искористи дневни одмор, након завршетка претходног дневног или недељног одмора, у року од:	
	а) 24 сата, б) 26 сати, в) 30 сати.	2

145	Возач теретног возила или скупа возила чија највећа дозвољена маса прелази 3.500 kg или аутобуса, мора да започне коришћење недељног одмора, након завршетка претходног недељног одмора, најкасније у року од:	
	а) 8 периода по 24 часа, б) 7 периода по 24 часа, в) 6 периода по 24 часа.	2

170	Да ли је возач који управља возилом којим се обавља међународни друмски превоз, дужан да потврде о одсуствовању возача држи у возилу?	
	а) Да. б) Не, јер их чува превозник.	4

209	Нестанак (губитак или крађа) картице возача, возач мора пријавити најближој полицијској управи:	
	а) у року од 7 дана, б) у најкраћем могућем року, в) у року од 15 дана.	4

Auto škola Pavlin
Škola koju ćete sigurno završiti



РЕПУБЛИКА СРБИЈА

МИНИСТАРСТВО УНУТРАШЊИХ ПОСЛОВА – УПРАВА САОБРАЋАЈНЕ ПОЛИЦИЈЕ

